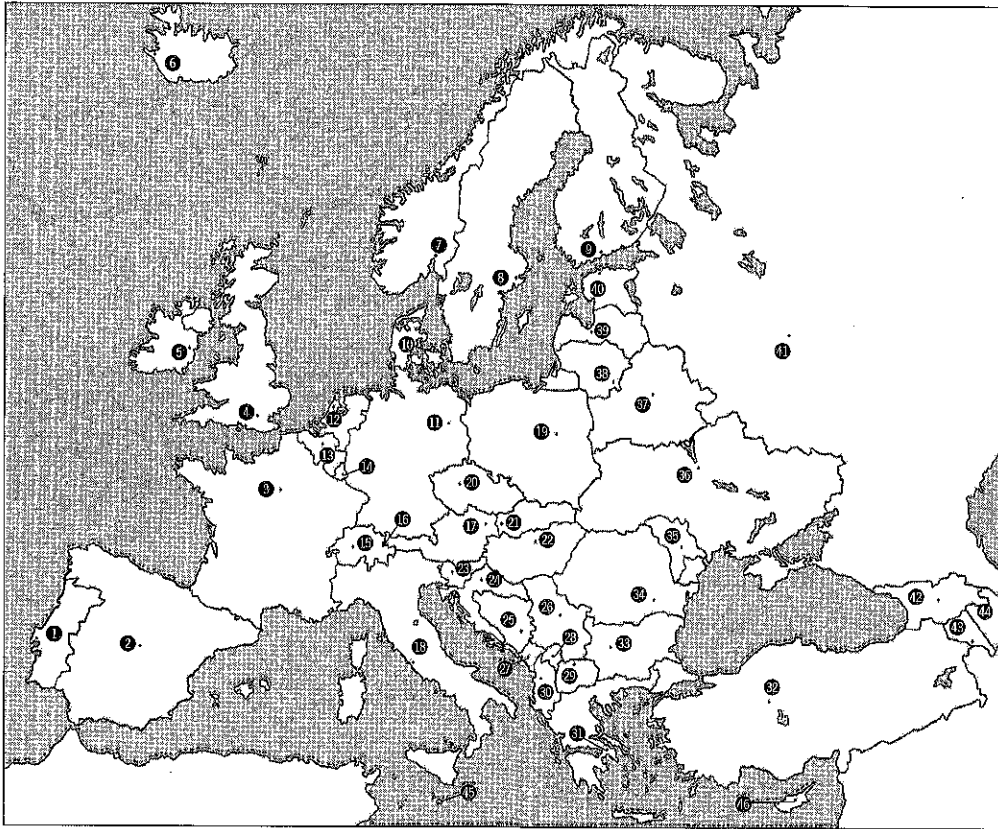


- ① \_\_\_\_\_
- ② \_\_\_\_\_
- ③ \_\_\_\_\_
- ④ \_\_\_\_\_
- ⑤ \_\_\_\_\_
- ⑥ \_\_\_\_\_
- ⑦ \_\_\_\_\_
- ⑧ \_\_\_\_\_
- ⑨ \_\_\_\_\_
- ⑩ \_\_\_\_\_
- ⑪ \_\_\_\_\_
- ⑫ \_\_\_\_\_
- ⑬ \_\_\_\_\_
- ⑭ \_\_\_\_\_
- ⑮ \_\_\_\_\_
- ⑯ \_\_\_\_\_
- ⑰ \_\_\_\_\_
- ⑱ \_\_\_\_\_
- ⑲ \_\_\_\_\_
- ⑳ \_\_\_\_\_
- ㉑ \_\_\_\_\_
- ㉒ \_\_\_\_\_

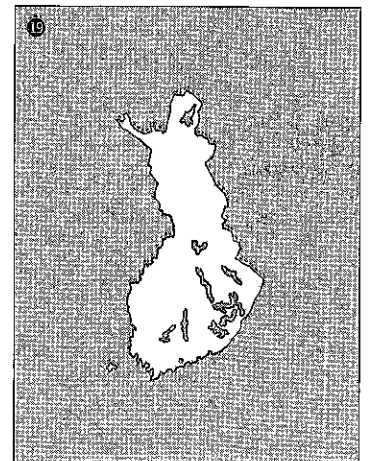
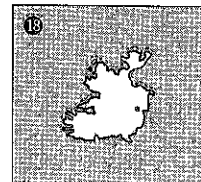
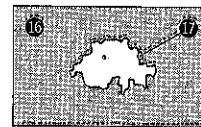
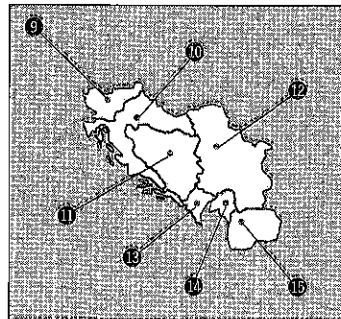
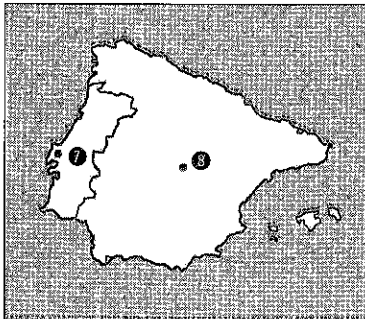
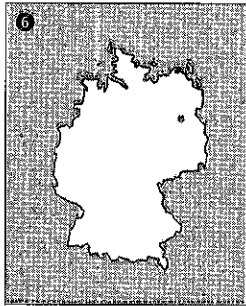
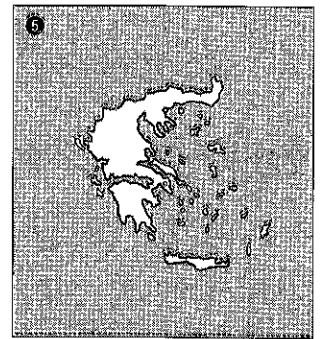

- ㉓ \_\_\_\_\_
- ㉔ \_\_\_\_\_
- ㉕ \_\_\_\_\_
- ㉖ \_\_\_\_\_
- ㉗ \_\_\_\_\_
- ㉘ \_\_\_\_\_
- ㉙ \_\_\_\_\_
- ㉚ \_\_\_\_\_
- ㉛ \_\_\_\_\_
- ㉜ \_\_\_\_\_
- ㉝ \_\_\_\_\_
- ㉞ \_\_\_\_\_
- ㉟ \_\_\_\_\_
- ㊱ \_\_\_\_\_
- ㊲ \_\_\_\_\_
- ㊳ \_\_\_\_\_
- ㊴ \_\_\_\_\_
- ㊵ \_\_\_\_\_
- ㊶ \_\_\_\_\_
- ㊷ \_\_\_\_\_
- ㊸ \_\_\_\_\_
- ㊹ \_\_\_\_\_
- ㊺ \_\_\_\_\_



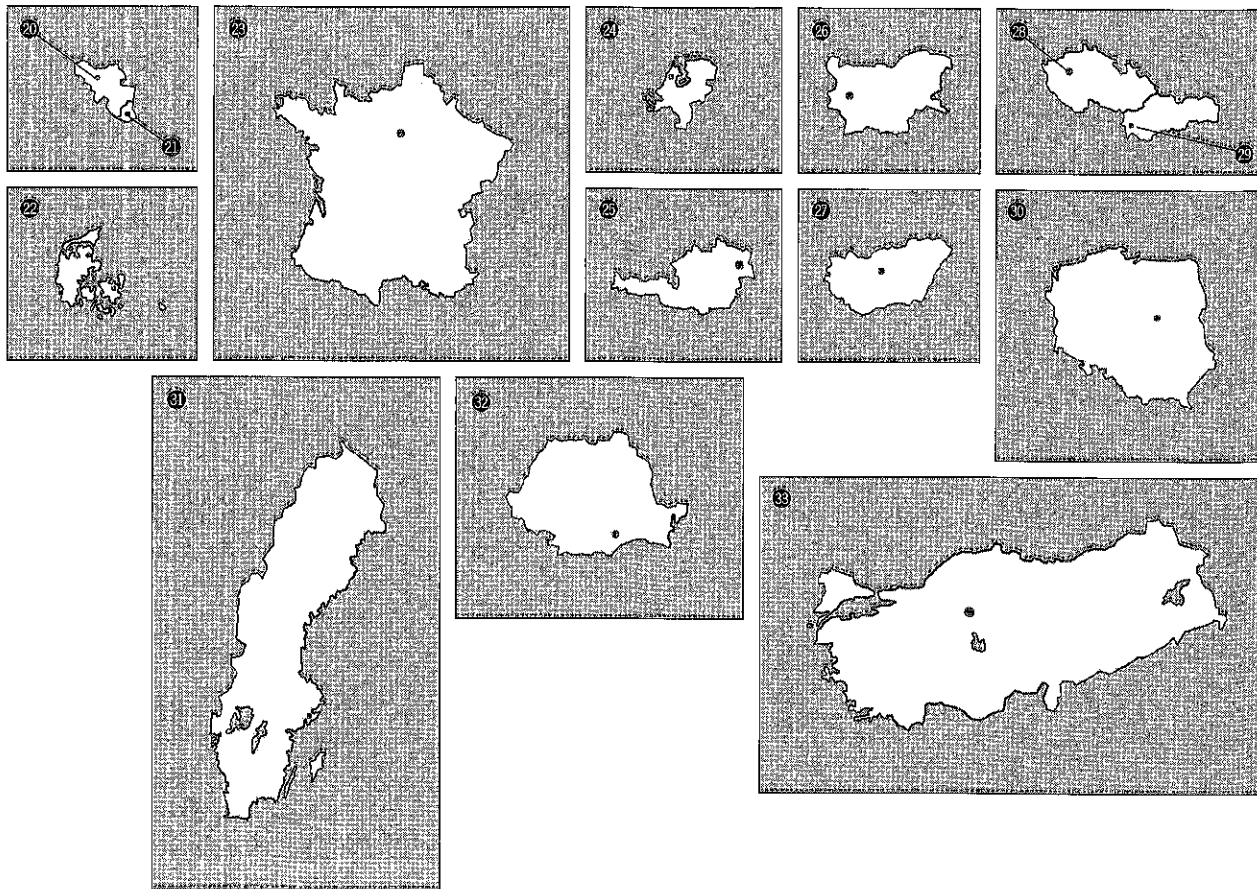
- |   |       |    |       |
|---|-------|----|-------|
| ① | _____ | 24 | _____ |
| ② | _____ | 25 | _____ |
| ③ | _____ | 26 | _____ |
| ④ | _____ | 27 | _____ |
| ⑤ | _____ | 28 | _____ |
| ⑥ | _____ | 29 | _____ |
| ⑦ | _____ | 30 | _____ |
| ⑧ | _____ | 31 | _____ |
| ⑨ | _____ | 32 | _____ |
| ⑩ | _____ | 33 | _____ |
| ⑪ | _____ | 34 | _____ |
| ⑫ | _____ | 35 | _____ |
| ⑬ | _____ | 36 | _____ |
| ⑭ | _____ | 37 | _____ |
| ⑮ | _____ | 38 | _____ |
| ⑯ | _____ | 39 | _____ |
| ⑰ | _____ | 40 | _____ |
| ⑱ | _____ | 41 | _____ |
| ⑲ | _____ | 42 | _____ |
| ⑳ | _____ | 43 | _____ |
| ㉑ | _____ | 44 | _____ |
| ㉒ | _____ | 45 | _____ |
| ㉓ | _____ | 46 | _____ |



Welche Staaten sind hier abgebildet? Wie heißen ihre Hauptstädte?



	Staat	Hauptstadt
①		
②		
③		
④		
⑤		
⑥		
⑦		
⑧		
⑨		
⑩		
⑪		
⑫		
⑬		
⑭		
⑮		
⑯		
⑰		
⑱		



Staat	Hauptstadt
20	
21	
22	
23	
24	
25	
26	
27	
28	
29	
30	
31	
32	
33	



Unterstreiche die richtige Antwort.

- ① Wie hoch ist der Montblanc?  
3 204 m  
2 893 m  
4 807 m
- ② Wie heißt die Hauptstadt Belgiens?  
Lüttich  
Antwerpen  
Brüssel
- ③ Wie heißt die Hauptstadt der Niederlande?  
Den Haag  
Amsterdam  
Rotterdam
- ④ In welchem Teil Großbritanniens liegt Glasgow?  
England  
Schottland  
Irland
- ⑤ Wie heißt die Hauptstadt Nordirlands?  
Dublin  
Belfast  
Donegal
- ⑥ In welchem Gebirge befindet sich der höchste Berg der (Slowakischen Republik?) *SLOWAKEI*  
Riesengebirge  
Erzgebirge  
Tatra
- ⑦ Welcher Staat ist am dünnsten besiedelt?  
Norwegen  
Schweden  
Finnland
- ⑧ In welches Meer fließt der Dnjepr?  
Kaspisches Meer  
Schwarzes Meer  
Weißes Meer
- ⑨ In welchem Staat liegt der Onegasee?  
Ukraine  
Russland  
Weißrussland
- ⑩ Wo befindet sich der Golf von Korinth?  
Albanien  
Griechenland  
Bulgarien
- ⑪ In welches Meer mündet der Tiber?  
Ägäisches Meer  
Tyrrhenisches Meer  
Adriatisches Meer
- ⑫ An welcher Küste der Iberischen Halbinsel liegt Porto?  
Nordküste  
Westküste  
Ostküste
- ⑬ Wie heißt die Hauptstadt der Schweiz?  
Zürich  
Genf  
Bern

# LÖSUNGEN zu den Arbeitsblättern „Geografie“, 2ab

## Arbeitsauftrag: Sucharbeit mit Atlas!

Nimm den Atlas zur Lösung der Aufgaben zu Hilfe! Orientiere dich und schau genau...  
Viel Erfolg beim Lösen der Aufgaben!

HOFMAYER M., 31.3.2020

© Erdkundemappe EUROPA, Persen Verlag

### 7/8/9 Staaten-Umriss

- |                                   |                                                                 |
|-----------------------------------|-----------------------------------------------------------------|
| ① Island - Reykjavik              | ②③ Frankreich - Paris                                           |
| ② Italien - Rom                   | ④ Niederlande - Amsterdam                                       |
| ③ Großbritannien - London         | ⑤ Österreich - Wien                                             |
| ④ Albanien - Tirana               | ⑥ Bulgarien - Sofia                                             |
| ⑤ Griechenland - Athen            | ⑦ Ungarn - Budapest                                             |
| ⑥ Deutschland - Berlin            | ⑧ Tschechische Republik - Prag                                  |
| ⑦ Portugal - Lissabon             | ⑨ Slowakische Republik - Bratislava (Pressburg) <b>SLOWAKEI</b> |
| ⑧ Spanien - Madrid                | ⑩ Polen - Warschau                                              |
| ⑨ Slowenien - Ljubljana (Laibach) | ⑪ Schweden - Stockholm                                          |
| ⑩ Kroatien - Zagreb               | ⑫ Rumänien - Bukarest                                           |
| ⑪ Bosnien-Herzegowina - Sarajevo  | ⑬ Türkei - Ankara                                               |
| ⑫ Serbien - Belgrad               | ⑭ Norwegen - Oslo                                               |
| ⑬ Montenegro - Podgorica          | ⑮ Estland - Tallinn (Reval)                                     |
| ⑭ Kosovo - Priština               | ⑯ Lettland - Riga                                               |
| ⑮ Mazedonien - Skopje             | ⑰ Litauen - Vilnius (Wilna)                                     |
| ⑯ Schweiz - Bern                  | ⑱ Weißrussland - Minsk                                          |
| ⑰ Liechtenstein - Vaduz           | ⑲ Ukraine - Kiew                                                |
| ⑱ Irland - Dublin                 | ⑳ Moldau (Moldawien) - Chisinau (Kischinau)                     |
| ⑳ Finnland - Helsinki             | ㉑ Russland - Moskau                                             |
| ㉑ Belgien - Brüssel               | ㉒ Georgien - Tiflis                                             |
| ㉒ Luxemburg - Luxemburg           | ㉓ Armenien - Jerewan (Eriwan)                                   |
| ㉓ Dänemark - Kopenhagen           | ㉔ Aserbaidschan - Baku                                          |

### Seite Hauptstädte Europas

- |               |                          |                        |
|---------------|--------------------------|------------------------|
| 12 ① Lissabon | ⑰ Wien                   | ⑳ Sofia                |
| ② Madrid      | ⑱ Rom                    | ㉑ Bukarest             |
| ③ Paris       | ⑲ Warschau               | ㉒ Chisinau (Kischinau) |
| ④ London      | ㉑ Prag                   | ㉓ Kiew                 |
| ⑤ Dublin      | ㉒ Bratislava (Pressburg) | ㉔ Minsk                |
| ⑥ Reykjavik   | ㉓ Budapest               | ㉕ Vilnius (Wilna)      |
| ⑦ Oslo        | ㉔ Ljubljana (Laibach)    | ㉖ Riga                 |
| ⑧ Stockholm   | ㉕ Zagreb                 | ㉗ Tallinn (Reval)      |
| ⑨ Helsinki    | ㉖ Sarajevo               | ㉘ Moskau               |
| ⑩ Kopenhagen  | ㉗ Belgrad                | ㉙ Tiflis               |
| ⑪ Berlin      | ㉘ Podgorica              | ㉚ Jerewan (Eriwan)     |
| ⑫ Amsterdam   | ㉙ Priština               | ㉛ Baku                 |
| ⑬ Brüssel     | ㉚ Skopje                 | ㉜ Valletta             |
| ⑭ Luxemburg   | ㉛ Tirana                 | ㉝ Nikosia              |
| ⑮ Bern        | ㉜ Athen                  |                        |
| ⑯ Vaduz       | ㉝ Ankara                 |                        |

Seite

### 1a) Wie heißen die europäischen Staaten?

- |                  |                         |                      |
|------------------|-------------------------|----------------------|
| ① Portugal       | ⑮ Österreich            | ⑳ Rumänien           |
| ② Spanien        | ⑯ Italien               | ㉑ Moldau (Moldawien) |
| ③ Frankreich     | ⑰ Polen                 | ㉒ Ukraine            |
| ④ Großbritannien | ⑱ Tschechische Republik | ㉓ Weißrussland       |
| ⑤ Irland         | ㉑ Slowakische Republik  | ㉔ Litauen            |
| ⑥ Island         | ㉒ Ungarn                | ㉕ Lettland           |
| ⑦ Norwegen       | ㉓ Slowenien             | ㉖ Estland            |
| ⑧ Schweden       | ㉔ Kroatien              | ㉗ Russland           |
| ⑨ Finnland       | ㉕ Bosnien-Herzegowina   | ㉘ Georgien           |
| ⑩ Dänemark       | ㉖ Serbien               | ㉙ Armenien           |
| ⑪ Deutschland    | ㉗ Mazedonien            | ㉚ Aserbaidschan      |
| ⑫ Niederlande    | ㉘ Albanien              | ㉛ Zypern             |
| ⑬ Belgien        | ㉙ Griechenland          | ㉜ Montenegro         |
| ⑭ Luxemburg      | ㉚ Türkei                | ㉝ Kosovo             |
| ⑮ Schweiz        | ㉛ Bulgarien             |                      |

### 1b) Wie heißen die europäischen Zwergstaaten?

- |                 |                |          |
|-----------------|----------------|----------|
| ① Liechtenstein | ③ Vatikanstadt | ⑤ Monaco |
| ② San Marino    | ④ Andorra      | ⑥ Malta  |

### 45/46 Europa-Quiz

- ① 4807 m, ② Brüssel, ③ Amsterdam, ④ Schottland, ⑤ Belfast, ⑥ Tatra, ⑦ Norwegen, ⑧ Schwarzes Meer, ⑨ Russland, ⑩ Griechenland, ⑪ Tyrrenisches Meer, ⑫ Westküste, ⑬ Bern, ⑭ Westalpen, ⑮ Alpen, ⑯ Brüssel, ⑰ Böhmerwald, ⑱ die Niederlande, ⑲ Paris, ⑳ Italien, ㉑ Donau, ㉒ Griechenland, ㉓ Mittelmeer, ㉔ Dänemark.